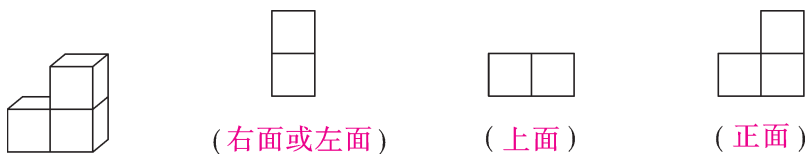


达标测试卷

题号	一	二	三	四	五	六	七	总分
得分								

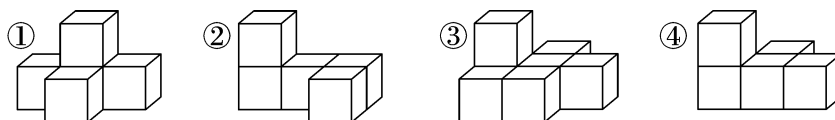
一、填一填。(18分)

1. 请在括号里写出下面图形分别是从什么方向看到的。

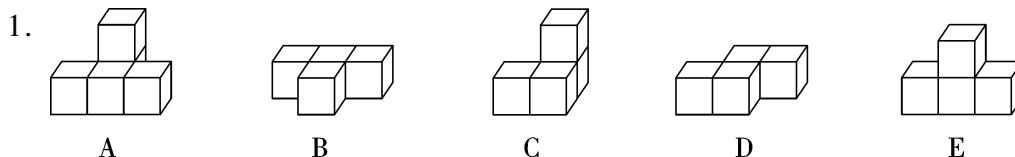


2. 如图 从(右或左)面看到的是 ,从(正)面看到的是 ,从(上)面看到的是 。

3. 在下面的立体图形中,(①)号从正面看到的图形是 ,(④)号从上面看到的图形是 ,(③)号从左面看到的图形是 。(填序号)




二、对号入座。(18分)

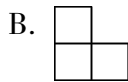



(1) 从正面看是 的有(B 和 D)。

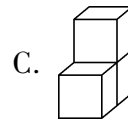
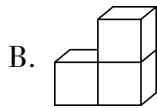
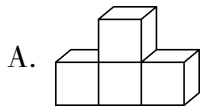
(2) 从右面看是 的有(A 和 C)。

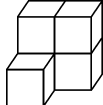
(3) 从右面看是 的有(B 和 D)。

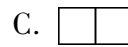
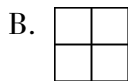
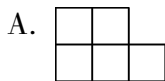
2. 从  的正面看到的图形是(A)。

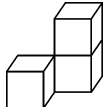


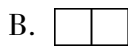
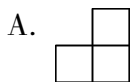
3. 下面(C)从正面看,看到的图形是 。

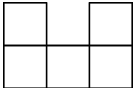


4.  加上一个小正方体后,从它的正面看不可能是(C)。



5.  去掉一个小正方体后,从它的侧面看不可能是(A)。



6. 一个物体从上面看到的图形是 , 搭这个物体最少要用(B)个小正方体。

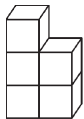
A. 4

B. 5

C. 6

三、看一看,连一连。(12 分)

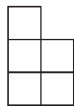
1.



从正面看

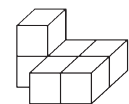


从右面看



从上面看

2.



从正面看

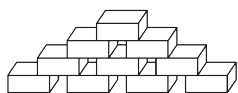


从左面看

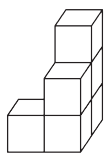


从上面看

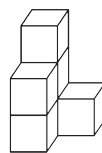
四、数一数。(12 分)



(10) 个



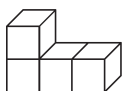
(6) 个



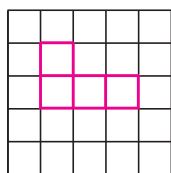
(6) 个

五、在方格纸上画出分别从正面、上面和左面看到的图形。(18 分)

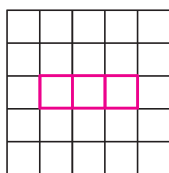
1.



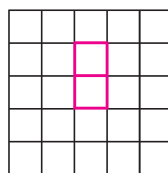
正面



上面



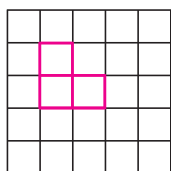
左面



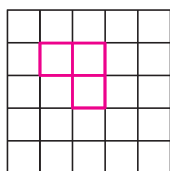
2.



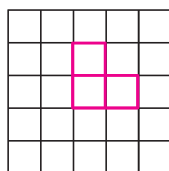
正面



上面



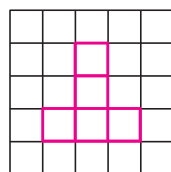
左面



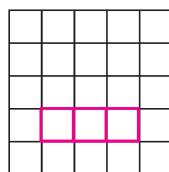
3.



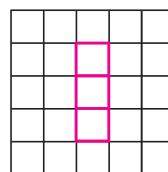
正面



上面



左面



六、猜一猜。(9 分)

1.



这是我从小面看到的图形。

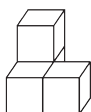
用4个正方体该怎么摆呢？



在正确的立体图形下面的括号里画“√”。



()

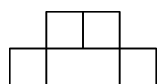


(☒)



()

2. 小刚用 5 个小正方体搭成了一个立体图形,从上面看到的图形是

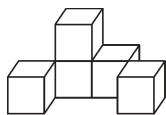


,从左面看到的图形是

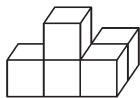


。在正确的立体图形下面的括号里

画“√”。




(√)



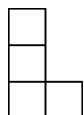
()

3. 王欣用 5 个小正方体搭成了一个立体图形,从右面看到的图形是

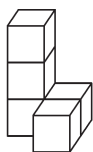


,从

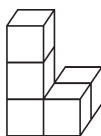
正面看到的图形是



。在正确的立体图形下面的括号里画“√”。



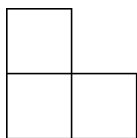
(√)



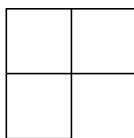
()

七、(开放题)用 4 个相同的小正方体搭成 1 个立体图形,明明从左面和上面看到的图形如下图所示,这 4 个小正方体可能是怎样搭的? 请你搭一搭,画一画。

(13 分)

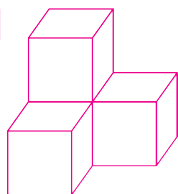


从左面看



从上面看

【答案】



或

